

Nom : Prénom : Classe :



Apprends à utiliser Données Pays !

Compétences



À la fin de l'activité, tu auras appris à lire et produire des tableaux, diagrammes et graphiques organisant des données numériques.

Découverte de l'outil

Sur le site  UNIVERSALIS Junior, déroule le menu de l'outil **Données Pays**, puis clique sur  Compareur.

The screenshot shows the 'Comparateur de Données Pays' interface. At the top, there are navigation tabs: 'Atlas', 'Classification', 'Dictionnaire', 'Données Pays', and 'Mon Universalis'. A search bar contains 'Rechercher sur Universalis'. The main heading is 'Comparateur de Données Pays' with a sub-heading 'En quelques clics, affichez et comparez les données'. Below this are three input fields: 'Pays' (with a 'Supprimer la sélection' link), 'Données' (with a 'Supprimer la sélection' link), and 'Année ou période' (a dropdown menu set to 'Données les plus récentes'). A 'Comparer' button is located below these fields. Three numbered callouts point to specific parts of the interface: 1 points to the 'Pays' field, 2 points to the 'Données' field, and 3 points to the 'Année ou période' dropdown.

1 Sélectionne les pays que tu veux comparer.

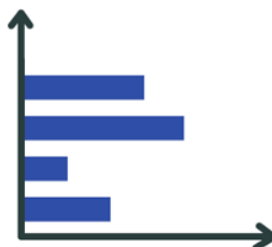
2 Sélectionne une ou plusieurs données.

3 Choisis l'année ou la période de comparaison.

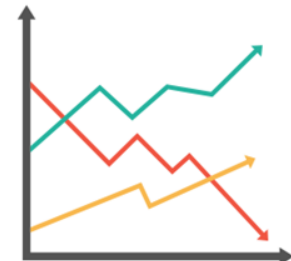
4 Les résultats apparaissent sous la forme d'un :

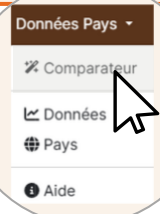
tableau

histogramme



graphique en courbe





La population mondiale

Recherche 1 : quels sont les trois pays les plus peuplés au monde ?

- Groupes de pays sélectionnés :
- Donnée sélectionnée :
- Réponse :

Astuce !



Dans le tableau, les résultats s'affichent par défaut dans l'ordre alphabétique. Si tu veux afficher les résultats dans l'ordre croissant ou décroissant, clique sur le titre de la colonne de données et l'ordre changera.

Ton pays et ses voisins

Recherche 2 : quel est le pourcentage de jeunes de 0 à 14 ans dans le pays où tu habites ? Comment ce pourcentage a-t-il évolué depuis 1960 ?



- Pays sélectionné :
- Donnée sélectionnée :
- Réponse :


Recherche 3 : compare cette évolution avec trois pays voisins. Quel pays a le plus grand pourcentage de jeunes de 0 à 14 ans ? Les écarts sont-ils importants ?

- Pays sélectionnés :
- Donnée sélectionnée :
- Réponse :

La population mondiale



Jeu : complète la grille de mots croisés à l'aide du tableau des données.



Vertical

1. Le nombre de personnes par kilomètre carré de superficie des terres.
2. La surface en kilomètres carrés des parties terrestres des régions géographiques normalisées.

Horizontal

3. Ce taux indique le nombre de décès au cours de l'année pour 1000 personnes.
4. Ce taux indique le nombre de naissances vivantes qui ont lieu au cours de l'année pour 1000 personnes.
5. Cet indicateur sert à mesurer le niveau de développement des pays. Il prend en compte trois éléments : la santé, l'éducation et le niveau de vie des habitants.
6. La ville principale d'un État où se trouve généralement le siège du gouvernement et des administrations centrales.